

KÖRZETI MATEMATIKAVERSENY

BÓCS, 2013. 03. 27.



1. osztály

Kedves Versenyző!

Szeretettel köszöntünk a Körzeti Matematikaversenyen, Bócsön!

8 feladatot 45 perc alatt kell megoldanod, tetszőleges sorrendben. Minden feladatot pontosan olvasd el! A szöveges feladatok megoldásának menetét mindig jegyezd le és ne feledkezz el szöveggel válaszolni! Ügyelj a külalakra! Munkádat a biztonság kedvéért ellenőrizd, és gondolj a több megoldás lehetőségére is!

Eredményes, jó versenyzést kívánunk!

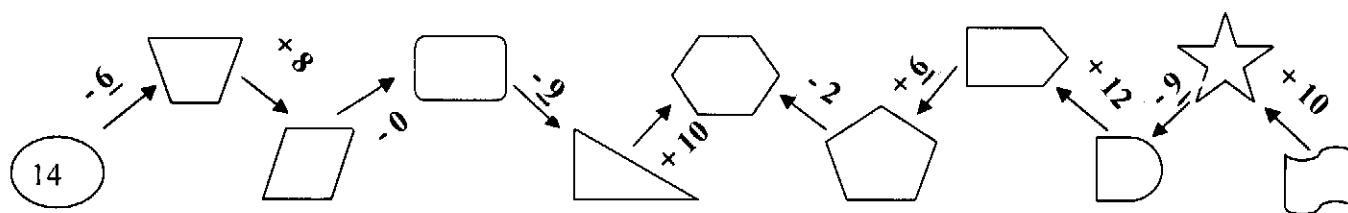
Sorszám: _____

Elért pontszám: 45/ _____

Helyezés: _____

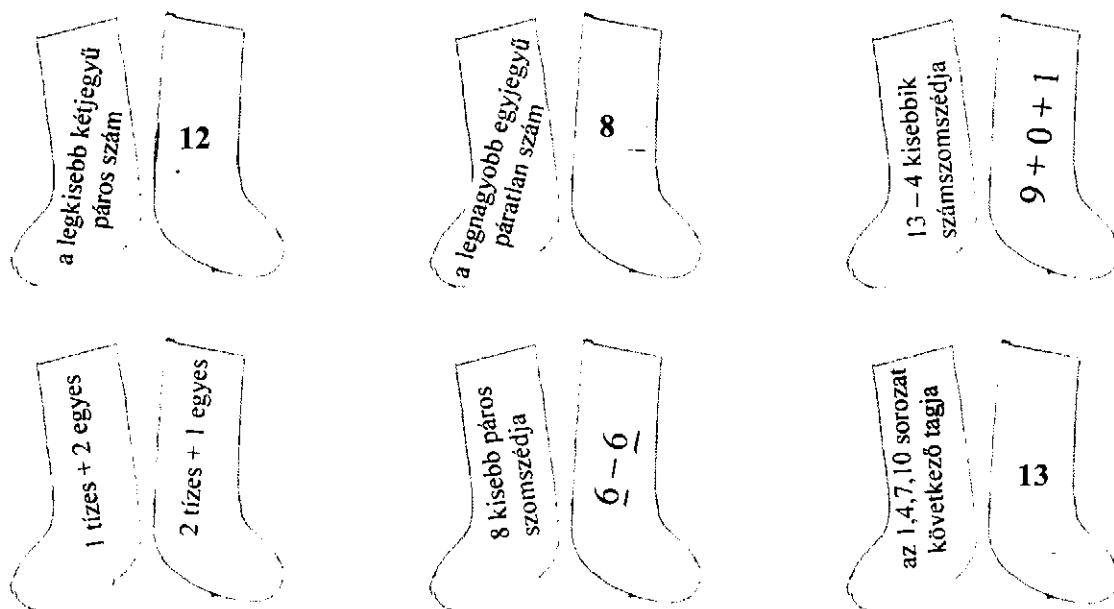
1. számolj! figyelj a nyilakra!

10



2. karikázd be a jól összepárosított zoknikat!

6



3. rajzold be a megfelelő ábrákat a táblázat üres celláiba!

5

X							
Y							
Z							

= 3 = 4 = 5 = 7 = 8 = 6
 = 9 = 10 = 11 = 12 = 13 = 14

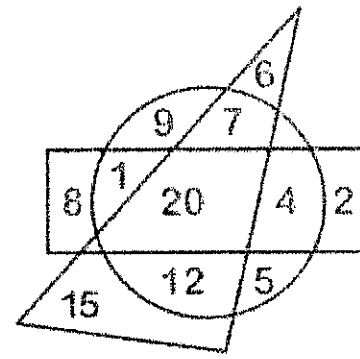
6	
---	--

4. az ábra alapján oldd meg a feladatokat!

a) sorold fel a háromszögben lévő kétjegyű számokat!

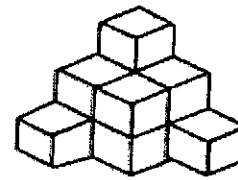
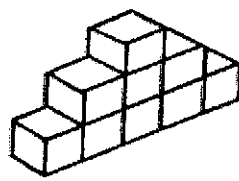
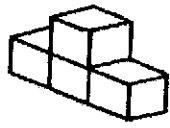
b) sorold fel a körben lévő páros számokat!

c) sorold fel a négyszögön kívül lévő egyjegyű páratlan számokat!




3	
---	--

5. hány kockából állnak ezek az építmények! írd az üres négyzetbe!



6. színezd a virágokat háromszínűre! piros, kék és sárga színeket használj!
egy virágban minden szín csak egyszer szerepeljen!
(több ábra van, mint ahány megoldás!)

6	
---	--



7. oldd meg a nyitott mondatokat!

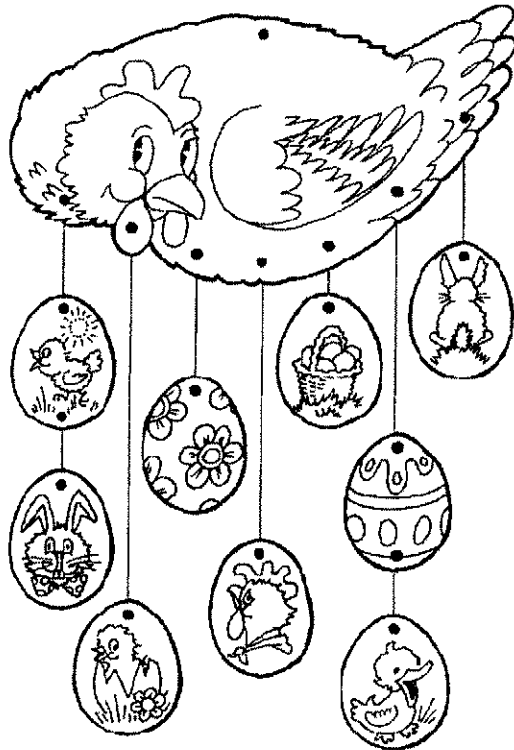

4	
---	--

$20 - 14 < \odot < 15 - 5 \quad \odot = \underline{\hspace{2cm}}$

$4 + 1 < \text{😊} - 3 < 7 + 6 \quad \text{😊} = \underline{\hspace{2cm}}$

8. a kosárban 19-nél kevesebb tojás volt.
négyet kivettünk belőle és így 11-nél több maradt benne.
hány tojás lehetett a kosárban?

5	
---	--



VIDÁM HÚSVÉTOT KÍVÁNUNK!