



# KÖRZETI MATEMATIKA VERSENY

## 2.OSZTÁLY


Köszöntünk a körzeti matematika versenyen, Böcsön!  
A feladatok megoldására 45 perc áll a rendelkezésedre!  
Munkád során figyelj a külalakra!  
Ne feledkezz meg az ellenőrzésről, esetleg a több megoldás  
kereséséről sem.

EREDMÉNYES VERSENYZÉST KÍVÁNUNK!

Versenyző sorszáma: \_\_\_\_\_

Elért pontszám:    pont/ 46

Böcs, 2025.április 15.



1. Figyeld meg az első ábrát! Végezd el a műveleteket! Figyelj a műveleti jelekre és a négyzetrácsra!


6	
---	--

2. Vezesd a nyulat a répához! Folytasd a sorozatot a felismert szabály szerint! Színezd zöldre a nyuszi útját!

4	
---	--

3. Egészítsd ki a számpiramist a megfelelő római számokkal!

6	
---	--



**4.Állapítsd meg a szabályt! Töltsd ki a táblázatot!**

A	6	8	6	7			3	9
B	4	2	5	3	6	7		
C	28	20			52	39	28	49

C=\_\_\_\_\_ A=\_\_\_\_\_ B=\_\_\_\_\_

9	
---	--

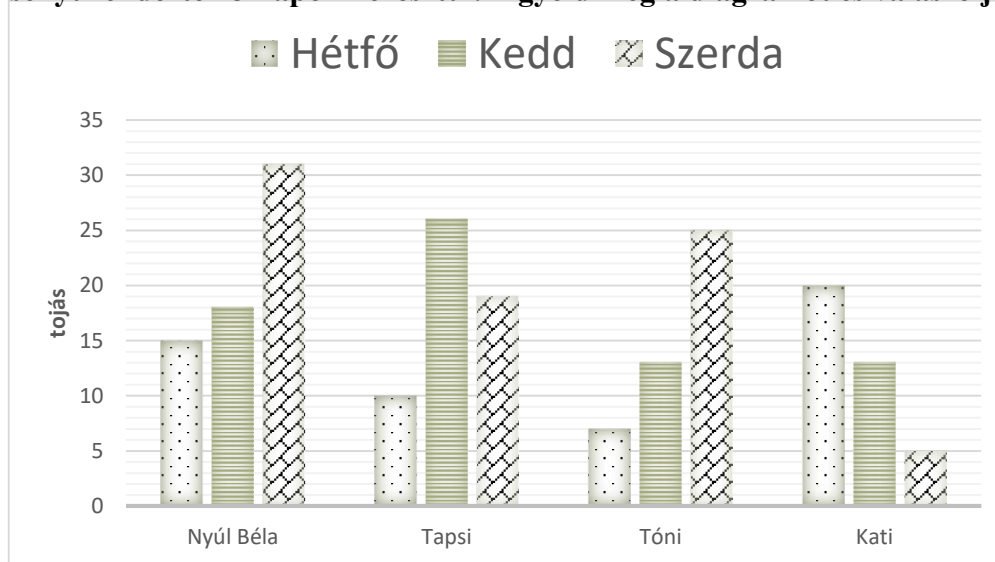
**5.Az étteremben hamburgert készítenek. Hányféle sorrendben tehetik a zsemlébe a húst (H), sajtot (S), zöldséget (Z) ketchupot (K), ha a sajt mindig a hús tetején van.**

**Töltsd ki a táblázatot a megadott kezdőbetűkkel! Vigyázz, több hely van, mint lehetőség!**

1.	2.	3.	4.	5.	6.	7.	8.	9.


6	
---	--

**6.Figyeld meg a diagrammot és válaszolj a kérdésekre! Nyúl Béla, Tapsi, Tóni és Kati tojásfestő versenyt rendeztek 3 napon keresztül. Figyeld meg a diagrammot és válaszolj a kérdésekre!**



1. Ki festette a legtöbb tojást 3 nap alatt és mennyit? \_\_\_\_\_
2. Ki festette a legkevesebb tojást 3 nap alatt és mennyit? \_\_\_\_\_
3. Tapsi és Tóni hétfőn hány tojást festett? \_\_\_\_\_
4. Mennyivel festett több tojást Tapsi Tóninál a 3 nap alatt? \_\_\_\_\_
5. Kedden összesen mennyi tojást festettek? \_\_\_\_\_

5	
---	--



**7. Igaz (i) vagy hamis (h)?**

- 3 egyes + 4 tízes = 34
- A 29 a 28 összege páros szám lesz.
- A 38 és a 20 különbsége kisebb lesz, mint 30.
- A 43 nagyobbik páratlan egyes számszomszédja a 44. 

4	
---	--

**8. Ferinek 36 Ft zsebpénze van, négyszer annyi, mint Baláznak.**

a) *Hány Ft-ja van Baláznak?*

Adatok: \_\_\_\_\_

Nyitott m.: \_\_\_\_\_

Számolás: \_\_\_\_\_

Válasz: \_\_\_\_\_

b) *Hány forintjuk van összesen?*

Számolás: \_\_\_\_\_

Válasz: \_\_\_\_\_

