



KÖRZETI MATEMATIKA VERSENY 3.OSZTÁLY


Köszöntünk a körzeti matematika versenyen, Böcsön!
A feladatok megoldására 45 perc áll a rendelkezésedre!
Munkád során figyelj a külalakra!
Ne feledkezz meg az ellenőrzésről, esetleg a több megoldás kereséséről sem.

EREDMÉNYES VERSENYZÉST KÍVÁNUNK!

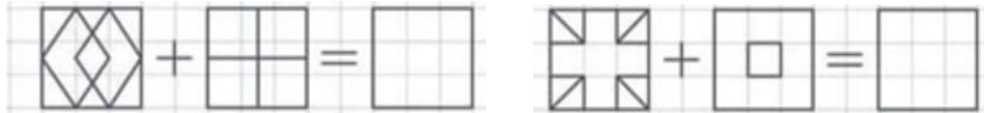
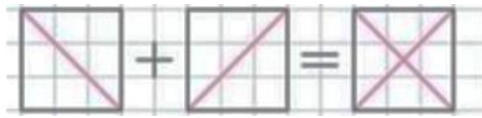
Versenyző sorszáma: _____

Elért pontszám: pont/ 49

Böcs, 2025.április 15.

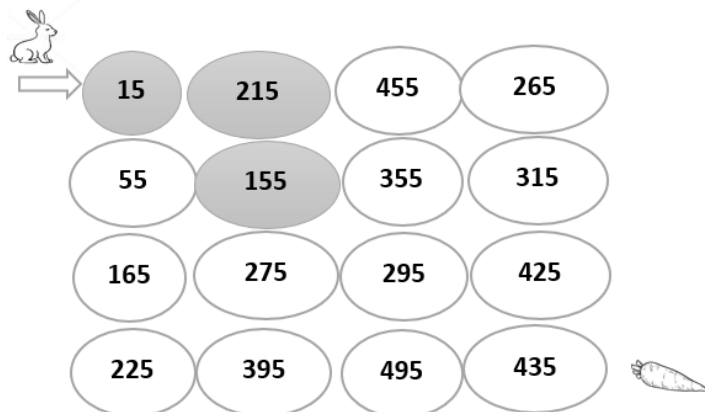


1. Figyeld meg az első ábrát! Végezd el a műveleteket! Figyelj a műveleti jelekre és a négyzetrácsra! Dolgozz kétféle színnel!



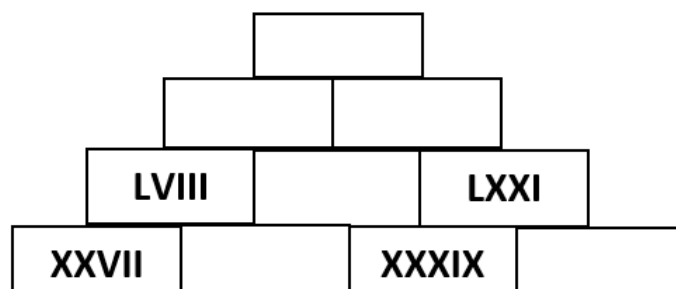
6	
---	--

2. Vezesd a nyulat a répához! Folytasd a sorozatot a felismert szabály szerint! Színezd zöldre a nyuszi útját!




4	
---	--

3. Egészítsd ki a számpiramist a megfelelő római számokkal!



6	
---	--



4.Állapítsd meg a szabályt! Töltsd ki a táblázatot!

A	18	122	22	183			111	137
B	132	178	38	237	76	138		
C	300	600			240	460	620	800

A= _____

B= _____

C= _____

9	
---	--

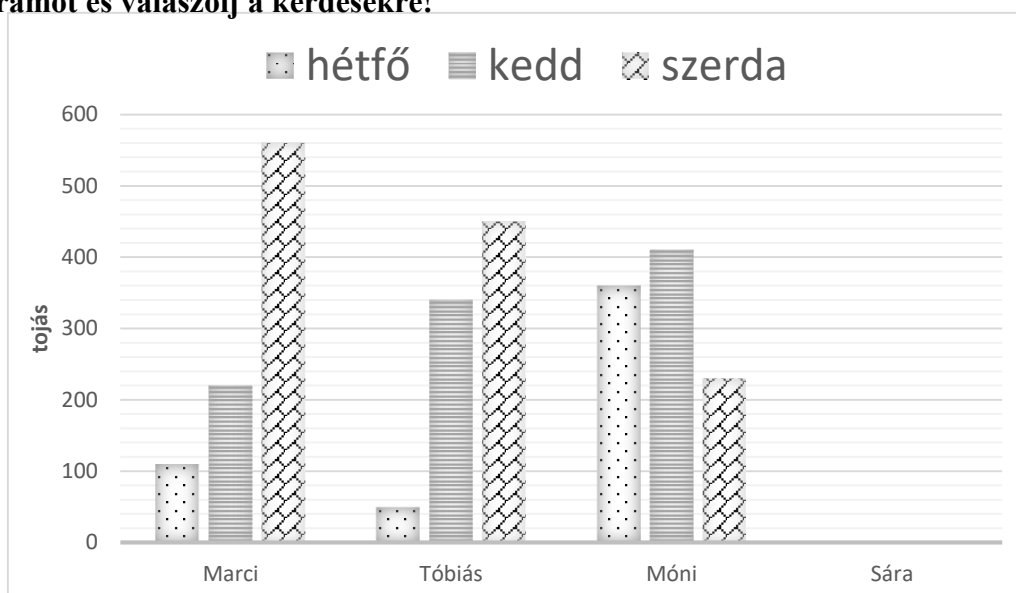
5.Egy társasjátékban egy piros, egy kék és egy sárga szabályos dobókockával dobunk egyszerre. A játékot akkor kezdhetjük, ha a három kockán lévő pöttyök számának összege hat. Hányféleképpen dobhatunk hatot a három kockával? Írd be a táblázatba az összes lehetőséget, egyet segítségül megadtunk! Több hely van, mint ahány lehetőség!

Piros	3											
Kék	2											
Sárga	1											

Lehetőségek száma:


9	
---	--

6.Marci, Tóbiás, Móni és Sára tojást gyűjtöttek 3 napon keresztül. Figyeld meg a diagramot és válaszolj a kérdésekre!



1. Sára hétfőn 120, kedden 400, szerdán 360 tojást gyűjtött. Jelöld a diagramon melyik nap mennyi tojást gyűjtött.
2. Ki gyűjtötte a legtöbb tojást és mennyit? _____
3. Ki gyűjtötte a legkevesebb tojást és mennyit? _____
4. Hétfőn összesen mennyi tojást gyűjtöttek? _____
5. Kedden Marci hány tojást gyűjtött? _____

5	
---	--



7. Igaz (i) vagy hamis (h)?

- 4 százazas + 5 tízes = 450
 - A 632 és a 49 összege páros szám lesz.
 - A 632 és 49 különbsége nagyobb lesz, mint 600.
 - A 430 nagyobb tízes számszomszédja a 440.
- | | |
|---|--|
| 4 | |
|---|--|

8. Tibinek 534 Ft zsebpénze van, 3-szor annyi, mint Pistinek.

a) *Hány Ft-ja van Pistinek?*

Adatok: _____

Nyitott m.: _____

Számolás: _____

Válasz: _____

b) *Mennyi pénzük van összesen?*

Számolás: _____

Válasz: _____

6	
---	--

